



Mönster med stickor

– Uppgift


Hjälpmedel: miniräknare



Figur 1



Figur 2



Figur 3

a) Hur många stickor finns det i Figur 4 om mönstret fortsätter att öka på samma sätt?

Skriv bara svar: _____

b) Hur många stickor finns det i Figur 10?

Visa hur du löser uppgiften.

c) Vilket nummer har den figur där det finns 194 stickor?

Visa hur du löser uppgiften.